

# معجم اللغة العربية

للصف الأول الابتدائي



يطلب من ملتزمة طبعة ونشر  
المكتبة القرظية ومطبعها بالفجالة بمصر ٥٨٧٧٤



# مَكْتَبَةُ لِسَانِ الْعَرَبِ

أ. علاء الدين شوقي

[www.lisanarb.com](http://www.lisanarb.com)



twitter مكتبة لسان العرب



facebook مكتبة لسان العرب



instagram مكتبة لسان العرب



# مَعَالِمُ الْحَسَابِ

طريقة سهلة ومبتكرة لتعليم الأطفال

وفق آخر منهج قرره الوزارة

تأليف

عبد العزيز قتلان

الجزء الاول

للسنة الأولى الابتدائية

حقوق الطبع محفوظة للناشر

عبد العزيز قتلان

صاحب ومدير المكتبة العزيزية ومطبعها

ومسجل بمحكمة عابدين الجزئية بتاريخ ٢٤/١١/١٩٤٥

والشهر العقاري بالقاهرة

يطلب من ملتزمة طبعه ونشره

المكتبة العزيزية ومطبعها بالفجالة بمصر ت ٥٨٧٧٤

ومن المكاتب الشهيرة بالجمهورية العربية المتحدة

دارالمهدى الجديد لطباعة

كامل مصيحات ٥٠٨٥٢

# بِسْمِ اللَّهِ الرَّحْمَنِ الرَّحِيمِ

الحمد لله الذي علم بالقلم . والصلاة والسلام على سيدنا محمد  
أخرف الأمم وعلى آله وصحبه وسلم أجمعين .


ويعد : هذا الجزء الأول من كتاب « معلم الحساب » في  
طبعته الجديدة المنقحة ، تقدمه لأطفالنا وقلة أكبادنا ، راجين  
أن ينال الرضا والقبول .

وقد روعي فيه سهولة الوضع . وحسن التنسيق . وجمال  
التصوير حتى يكون وافياً بالغرض المقصود .

وقننا انه جميعاً لما فيه خير البلاد وسماقتها في عهدنا  
الجديد .




الدَّرسُ الأوَّلُ



يُلوّن التلميذ الصورة ويكتب العدد ١ في المربعات

١	١	١	١	١	١	١
١	١	١	١	١	١	١

## الدرس الثاني



يلون التلميذ الصورة ويكتب العدد ٢ في المربعات

٢	٢	٢	٢	٢	٢	٢
٢	٢	٢	٢	٢	٢	٢









## التمرين الاول

اجمع ما يأتي :-


$\begin{array}{r} + 1 \\ \underline{7} \\ = \end{array}$	$\begin{array}{r} + 1 \\ \underline{2} \\ = \end{array}$	$\begin{array}{r} + 1 \\ \underline{3} \\ = \end{array}$
$\begin{array}{r} + 1 \\ \underline{9} \\ = \end{array}$	$\begin{array}{r} + 1 \\ \underline{1} \\ = \end{array}$	$\begin{array}{r} + 1 \\ \underline{5} \\ = \end{array}$
$\begin{array}{r} + 1 \\ \underline{4} \\ = \end{array}$	$\begin{array}{r} + 1 \\ \underline{8} \\ = \end{array}$	$\begin{array}{r} + 1 \\ \underline{6} \\ = \end{array}$
$\begin{array}{r} + 3 \\ \underline{1} \\ = \end{array}$	$\begin{array}{r} + 7 \\ \underline{1} \\ = \end{array}$	$\begin{array}{r} + 5 \\ \underline{1} \\ = \end{array}$







## الدرس الثامن



يلون التلميذ الفيران ويكتب العدد ٨ في المربعات











٨	٨	٨	٨	٨	٨	٨	٨
△	△	△	△	△	△	△	△






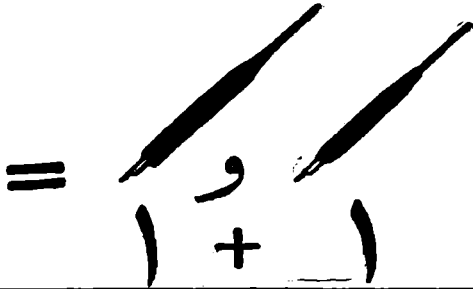


اجمع كل نوع واكتب العدد امامه

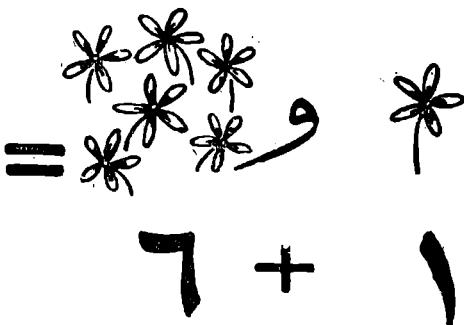




العدد		العدد	
العدد		العدد	
العدد		العدد	
العدد		العدد	
العدد		العدد	

الدرس ١٢


الجمع :-



الجمع :-



الجمع :-



٨




٧ + ١




٩



٨ + ١



١٠



٩ + ١

## التمرين الثاني

اجمع ما يأتي :-

$$\begin{array}{r} + 5 \\ 3 \\ \hline \end{array} =$$

$$\begin{array}{r} + 5 \\ 2 \\ \hline \end{array} =$$

$$\begin{array}{r} + 5 \\ 1 \\ \hline \end{array} =$$

$$\begin{array}{r} + 4 \\ 1 \\ \hline \end{array} =$$

$$\begin{array}{r} + 5 \\ 5 \\ \hline \end{array} =$$

$$\begin{array}{r} + 5 \\ 4 \\ \hline \end{array} =$$

$$\begin{array}{r} + 4 \\ 4 \\ \hline \end{array} =$$

$$\begin{array}{r} + 4 \\ 3 \\ \hline \end{array} =$$

$$\begin{array}{r} + 4 \\ 2 \\ \hline \end{array} =$$

$$\begin{array}{r} + 7 \\ 3 \\ \hline \end{array} =$$

$$\begin{array}{r} + 4 \\ 6 \\ \hline \end{array} =$$

$$\begin{array}{r} + 4 \\ 5 \\ \hline \end{array} =$$

## التمرين الثالث

اجمع ما يأتي :-

$$\begin{array}{r} + 2 \\ 6 \\ \hline \end{array} =$$

$$\begin{array}{r} + 2 \\ 2 \\ \hline \end{array} =$$

$$\begin{array}{r} + 3 \\ 3 \\ \hline \end{array} =$$

$$\begin{array}{r} + 8 \\ 2 \\ \hline \end{array} =$$

$$\begin{array}{r} + 6 \\ + 4 \\ \hline \end{array} =$$

$$\begin{array}{r} + 3 \\ 7 \\ \hline \end{array} =$$

$$\begin{array}{r} + 2 \\ 7 \\ \hline \end{array} =$$

$$\begin{array}{r} + 3 \\ 5 \\ \hline \end{array} =$$

$$\begin{array}{r} + 4 \\ 2 \\ \hline \end{array} =$$

$$\begin{array}{r} + 3 \\ 6 \\ \hline \end{array} =$$

$$\begin{array}{r} + 2 \\ 8 \\ \hline \end{array} =$$

$$\begin{array}{r} + 2 \\ 4 \\ \hline \end{array} =$$

تمرين قراءة وكتابة .

اقرأ الأعداد الآتية ثم اكتبها ..

٥	٤	٣	٢	١
١٠	٩	٨	٧	٦
٣	٧	٢	٦	٤
٨	١	٩	٥	١٠







اكتب الأعداد من ١ الى ١٠


## مسائل عقلية :-

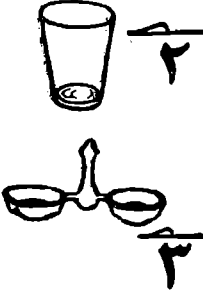


- |   |                                                        |
|---|--------------------------------------------------------|
| ١ | كم رجلا للحمامة ؟ وكم رجلا لك ؟<br>وكم رجلا للبطة ؟    |
| ٢ | كم أصبعا في يدك ؟ وكم أصبعا<br>في يديك ؟               |
| ٣ | كم جناحا للعصفور ؟ وكم جناحا<br>لثلاثة عصافير ؟        |
| ٤ | كم عينا لك ؟ وكم عينا للحصان ؟<br>وكم عينا لأوزتين ؟   |
| ٥ | كم رجلا للحصان ؟ وكم رجلا<br>للعمار ؟ وكم رجلا للجمل ؟ |
| ٦ | كم أذنا لك ؟ وكم أذنا لأربعة<br>أولاد ؟                |






## تمرین تحریری :-

 <p>١ جنيه</p>  <p>٦ جنيه</p>	<p>١. كم ثمن الطربوش والساعة؟</p> <p>٦ + ١ = جنيهات</p>	
 <p>٣ مليمات</p>  <p>٥ مليمات</p>	<p>٢. كم مليما ثمن القلم والمخبرة؟</p> <p>٥ + ٣ = مليمات</p>	
 <p>٤ قروش</p>  <p>٢ قرشان</p>	<p>٣. كم قرشا ثمن الكتاب والمسطرة؟</p> <p>٢ + ٤ = قروش</p>	

## تمرین تحریری :-

 <p>٢ ٣</p>	<p>١- کمر قرشا ثمن الكوب والملاحة ؟ = +</p>	<p>١</p>
 <p>٧ ٣</p>	<p>٢- کم قرشا ثمن السكين والطبق ؟ = +</p>	<p>٢</p>
 <p>٤ ٥</p>	<p>٣- کم قرشا ثمن الشوكة والمعلقة ؟ = +</p>	<p>٣</p>



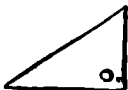






## تمرین تخیری :-

 <p>٢ ١ ٦</p>	<p>١- كم قرشاً ثمن الكرة والنفير والقبعة؟</p> <p>٢ + ١ + ٦ = قروش</p>	<p>١</p>
 <p>٥ ٤ ١</p>	<p>٢- كم قرشاً ثمن الكتاب والمهبرة والقلم؟</p> <p>قروش = + +</p>	<p>٢</p>
 <p>٥ ١ ٢</p>	<p>٣- كم قرشاً ثمن المصباح والشمعة وال فانوس؟</p> <p>قروش = + +</p>	<p>٣</p>

## تمرین تحریری :-

 <p>شای</p>  <p>سکر</p>  <p>صایرون</p> <p>۳ جنیه</p> <p>۲ جنیه</p> <p>۱ جنیه</p>	<p>۱. اجمع اثمان هذه الأشياء:</p> <p>= + +</p>	
 <p>۴</p>  <p>۳</p>  <p>۱</p>	<p>۲. كم قرشا ثمن هذه الأشياء؟</p> <p>= + +</p>	
 <p>۱</p>  <p>۲</p>  <p>۱</p>	<p>۳. كم قرشا ثمن هذه اللعب؟</p> <p>= + +</p>	




تمرین تحریری :-

 ٣ ملیات  ٢ ملیان  ٥ ملیات	<p>١. اجمع اثمان هذه الأشياء.</p> <p style="text-align: center;">= + +</p>	
 ٣  ٣  ٢	<p>٢. اجمع اثمان هذه الأشياء.</p> <p style="text-align: center;">= + +</p>	
 جنبه ٢  جنبه ٢  جنبه ١	<p>٣. اجمع اثمان هذه الأشياء.</p> <p style="text-align: center;">= + +</p>	

## تمرین تحریری :

 <p>جنيه ٢ ٧</p>	<p>١- كم جنيها ثمن الزهرية والسجادة ؟ = +</p>	<p>١-</p>
 <p>٦ جنيه ١</p>	<p>٢- كم جنيها ثمن الساعة والديوس ؟ = +</p>	<p>٢-</p>
 <p>جنيه ٤ ١</p>	<p>٣- كم جنيها ثمن الزجاجاة والمرآة ؟ = +</p>	<p>٣-</p>

## تمرین تحریری :-







 <p>٢ ١</p>	<p>١. كم قرشا ثمن القلة والكوز ؟</p> <p>= +</p>	
 <p>٦ ٤</p>	<p>٢. كم قرشا ثمن فنجان الشاي وفنجان القهوة ؟</p> <p>= +</p>	
 <p>٧ ٢</p>	<p>٣. كم قرشا ثمن الكأس الكبيرة والكأس الصغيرة ؟</p> <p>= +</p>	


## تمرین تحریری :-

 <p>مبیات ۳</p>  <p>ملم ۱</p>	<p>۱- کمر ملیما ثمن الزرار والإبرة؟</p> <p>= +</p>	<p>۱-</p>
 <p>جینه ۷</p>  <p>جینه ۱</p>	<p>۲- کم جنیها ثمن الفستان والقبعة؟</p> <p>= +</p>	<p>۲-</p>
 <p>جینه ۵</p>  <p>جینه ۱</p>  <p>جینه ۱</p>	<p>۳- کمر جنیها ثمن النظارة والمشط والقبعة؟</p> <p>= + +</p>	<p>۳-</p>



## تمرین تحریری :-

 <p>٤ ملیبات</p>  <p>١ ملیم</p>	<p>١- كم ثمن البرتقاله والليمونه؟</p> <p>= +</p>	
 <p>٥ الاقة</p>  <p>٤ الاقة</p>	<p>٢- كم ثمن اقة الموز و اقة البلح؟</p> <p>= +</p>	
 <p>٦ الاقة</p>  <p>٤ الاقة</p>	<p>٣- كم ثمن اقة العنب و اقة التين؟</p> <p>= +</p>	

 <p>كرسى ٢ جنيه</p> <p>كروني ٦ جنيه</p>	<p>١- كم ثمن الكرسي والأريكة؟</p> <p>= +</p>	
 <p>الرطل ٩ ح</p> <p>الرطل ١ ح</p>	<p>٢- كم ثمن رطل اللحم ورطل الطماطم؟</p> <p>= +</p>	
 <p>الرطل ٣ ح</p> <p>الأقح ٤ ح</p>	<p>٣- كم ثمن رطل البامية وأقح الفاصوليا؟</p> <p>= +</p>	

## تمارين للقراءة والكتابة :

١٥	١٤	١٣	١٢	١١
٢٠	١٩	١٨	١٧	١٦
١٦	١٧	١٨	١٩	٢٠
١١	١٢	١٣	١٤	١٥
اقرأ :-				
١٥	٧	١٩	٩	١٣

اقراء واكتب ..

٥	٤	٣	٢	١
١٠	٩	٨	٧	٦
١٥	١٤	١٣	١٢	١١
٢٠	١٩	١٨	١٧	١٦
٥	١٦	١٠	٨	١٣



٣٥

اقرأ واكتب :-

٢٤	٢٣	٢٢	٢١	٢٠
٢٩	٢٨	٢٧	٢٦	٢٥
٢٦	٢٧	٢٨	٢٩	٣٠
٢١	٢٢	٢٣	٢٤	٢٥
١٦	١٧	١٨	١٩	٢٠

اقرأ واكتب :-

۹	۳۰	۲۰	۱۰	۱۶
۱۱	۲۹	۱۷	۸	۲۴
۲۰	۱۰	۲	۱۳	۷
۴	۲۶	۱۹	۱	۲۳
۱۴	۱۸	۳	۲۲	۱۲

۳۷

اجمع ما يأتي :

$$\begin{array}{r} + ۸ \\ ۴ \\ ۸ \\ \hline \end{array}$$

$$\begin{array}{r} + ۹ \\ ۱ \\ ۶ \\ \hline \end{array}$$

$$\begin{array}{r} + ۷ \\ ۴ \\ ۵ \\ \hline \end{array}$$

$$\begin{array}{r} + ۴ \\ ۹ \\ ۷ \\ \hline \end{array}$$

$$\begin{array}{r} + ۶ \\ ۳ \\ ۵ \\ \hline \end{array}$$

$$\begin{array}{r} + ۱ \\ ۶ \\ ۲ \\ \hline \end{array}$$

$$\begin{array}{r} + ۸ \\ ۱ \\ ۱ \\ \hline \end{array}$$

$$\begin{array}{r} + ۵ \\ ۶ \\ ۲ \\ \hline \end{array}$$

$$\begin{array}{r} + ۳ \\ ۸ \\ ۹ \\ \hline \end{array}$$

$$\begin{array}{r} + ۶ \\ ۴ \\ ۵ \\ \hline \end{array}$$

$$\begin{array}{r} + ۴ \\ ۳ \\ ۱ \\ \hline \end{array}$$

$$\begin{array}{r} + ۷ \\ ۶ \\ ۶ \\ \hline \end{array}$$

اجمع ما يأتي :-

$\begin{array}{r} + 9 \\ 7 \\ \hline 2 \end{array}$	$\begin{array}{r} + 2 \\ 1 \\ \hline 0 \end{array}$	$\begin{array}{r} + 3 \\ 0 \\ \hline 7 \end{array}$
$\begin{array}{r} + 7 \\ 9 \\ \hline 3 \end{array}$	$\begin{array}{r} + 3 \\ 1 \\ \hline 7 \end{array}$	$\begin{array}{r} + 2 \\ 9 \\ \hline 9 \end{array}$
$\begin{array}{r} + 0 \\ 2 \\ \hline 7 \end{array}$	$\begin{array}{r} + 9 \\ 1 \\ \hline 0 \end{array}$	$\begin{array}{r} + 7 \\ 2 \\ \hline 3 \end{array}$
$\begin{array}{r} + 1 \\ 3 \\ \hline 0 \end{array}$	$\begin{array}{r} + 3 \\ 2 \\ \hline 7 \end{array}$	$\begin{array}{r} + 0 \\ 1 \\ \hline 9 \end{array}$



اجمع ما يأتي :-

$\begin{array}{r} + \quad ٤ \\ \quad ٤ \\ \quad ٤ \\ \hline \end{array}$	$\begin{array}{r} + \quad ٨ \\ \quad ١ \\ \quad ٧ \\ \hline \end{array}$	$\begin{array}{r} + \quad ٥ \\ \quad ٩ \\ \quad ٦ \\ \hline \end{array}$
$\begin{array}{r} + \quad ٨ \\ \quad ٨ \\ \quad ٨ \\ \hline \end{array}$	$\begin{array}{r} + \quad ٥ \\ \quad ٧ \\ \quad ٧ \\ \hline \end{array}$	$\begin{array}{r} + \quad ٩ \\ \quad ٩ \\ \quad ٩ \\ \hline \end{array}$
$\begin{array}{r} + \quad ٦ \\ \quad ٨ \\ \quad ٧ \\ \hline \end{array}$	$\begin{array}{r} + \quad ٤ \\ \quad ٩ \\ \quad ١ \\ \hline \end{array}$	$\begin{array}{r} + \quad ٦ \\ \quad ٢ \\ \quad ٦ \\ \hline \end{array}$
$\begin{array}{r} + \quad ٤ \\ \quad ٢ \\ \quad ٧ \\ \hline \end{array}$	$\begin{array}{r} + \quad ٨ \\ \quad ٧ \\ \quad ٥ \\ \hline \end{array}$	$\begin{array}{r} + \quad ٢ \\ \quad ٢ \\ \quad ٩ \\ \hline \end{array}$

اقراء واكتب :-

٣٤	٣٣	٣٢	٣١	٣٠
٣٩	٣٨	٣٧	٣٦	٣٥
٣٦	٣٧	٣٨	٣٩	٤٠
٣١	٣٢	٣٣	٣٤	٣٥
٦	٢٧	١٤	١٩	٣٠

اقراواكتب

٤٥	٤٤	٤٣	٤٢	٤١
٥٠	٤٩	٤٨	٤٧	٤٦
٥٥	٥٤	٥٣	٥٢	٥١
٦٠	٥٩	٥٨	٥٧	٥٦
٥٦	٥٧	٥٨	٥٩	٦٠
٥١	٥٢	٥٣	٥٤	٥٥

اقراً واكتب :

٦٥	٦٤	٦٣	٦٢	٦١
٧٠	٦٩	٦٨	٦٧	٦٦
٦٥	٦٦	٦٧	٦٨	٦٩
٦٠	٦١	٦٢	٦٣	٦٤
٥٥	٥٦	٥٧	٥٨	٥٩

اجمع ما يأتي:

$\begin{array}{r} + 14 \\ 11 \\ 12 \\ \hline \end{array}$	$\begin{array}{r} + 11 \\ 1 \\ 19 \\ \hline \end{array}$	$\begin{array}{r} + 17 \\ 10 \\ 11 \\ \hline \end{array}$
$\begin{array}{r} + 11 \\ 13 \\ 13 \\ \hline \end{array}$	$\begin{array}{r} + 11 \\ 10 \\ 14 \\ \hline \end{array}$	$\begin{array}{r} + 12 \\ 10 \\ 14 \\ \hline \end{array}$
$\begin{array}{r} + 19 \\ 19 \\ 19 \\ \hline \end{array}$	$\begin{array}{r} + 10 \\ 17 \\ 17 \\ \hline \end{array}$	$\begin{array}{r} + 17 \\ 14 \\ 10 \\ \hline \end{array}$

اجمع :

$\begin{array}{r} + ٢٧ \\ ٢٧ \\ ٢٤ \\ \hline \end{array}$	$\begin{array}{r} + ٢٥ \\ ٢٩ \\ ٢٢ \\ \hline \end{array}$	$\begin{array}{r} + ٢٨ \\ ٢١ \\ ٢١ \\ \hline \end{array}$
$\begin{array}{r} + ٢٩ \\ ٢٦ \\ ٢١ \\ \hline \end{array}$	$\begin{array}{r} + ٢٥ \\ ٢٥ \\ ٢٥ \\ \hline \end{array}$	$\begin{array}{r} + ٢٦ \\ ٢٨ \\ ٢٤ \\ \hline \end{array}$
$\begin{array}{r} + ٢٩ \\ ٢٠ \\ ٢٩ \\ \hline \end{array}$	$\begin{array}{r} + ٢٦ \\ ٢٦ \\ ٢٤ \\ \hline \end{array}$	$\begin{array}{r} + ٢٦ \\ ٢٦ \\ ٢٨ \\ \hline \end{array}$

اجمع ما يأتي :

$$\begin{array}{r} + 21 \\ 22 \\ 28 \\ \hline \end{array}$$

$$\begin{array}{r} + 20 \\ 21 \\ 2. \\ \hline \end{array}$$

$$\begin{array}{r} + 29 \\ 22 \\ 22 \\ \hline \end{array}$$

$$\begin{array}{r} + 25 \\ 22 \\ 20 \\ \hline \end{array}$$

$$\begin{array}{r} + 2. \\ 27 \\ 26 \\ \hline \end{array}$$



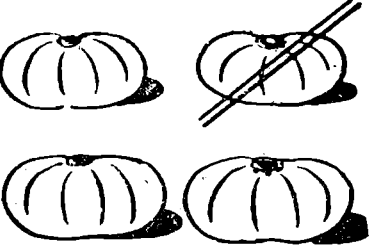
$$\begin{array}{r} + 27 \\ 21 \\ 24 \\ \hline \end{array}$$

$$\begin{array}{r} + 2. \\ 22 \\ 22 \\ \hline \end{array}$$

$$\begin{array}{r} + 29 \\ 21 \\ 29 \\ \hline \end{array}$$

$$\begin{array}{r} + 22 \\ 2. \\ 28 \\ \hline \end{array}$$

## الطرح (علافته -)

	<p>من ٢ - خذ ١</p> <hr/>
	<p>من ٣ - خذ ١</p> <hr/>
	<p>من ٤ - خذ ١</p> <hr/>



## الطرح (علامته -)



$$\begin{array}{r} \text{من} \\ 5 \\ - \\ 1 \\ \hline \end{array}$$




$$\begin{array}{r} \text{من} \\ 6 \\ - \\ 1 \\ \hline \end{array}$$




$$\begin{array}{r} \text{من} \\ 7 \\ - \\ 1 \\ \hline \end{array}$$

## الطرح ( علامته - )



من ٨ -  
 خذ ١



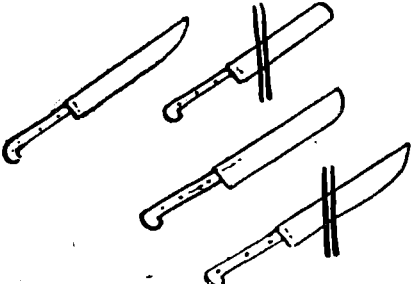


من ٩ -  
 خذ ١




من ١٠ -  
 خذ ١


الطرح (علامته -)

	<p>من ٢ -</p> <p>خذ ٢</p>
	<p>من ٣ -</p> <p>خذ ٢</p>
	<p>من ٤ -</p> <p>خذ ٢</p>


## الطرح (علامته -)



$$\begin{array}{r} \text{من } 5 - \\ \underline{\text{خذ } 2} \end{array}$$






$$\begin{array}{r} \text{من } 7 - \\ \underline{\text{خذ } 2} \end{array}$$



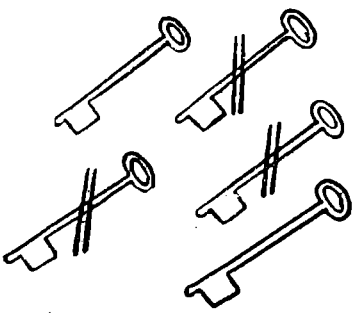


$$\begin{array}{r} \text{من } 10 - \\ \underline{\text{خذ } 2} \end{array}$$




## الطرح (علامته -)

	<p>من ٨ -</p> <p><u>خذ ٢</u></p>
	<p>من ٩ -</p> <p><u>خذ ٢</u></p>
	<p>من ١٠ -</p> <p><u>خذ ٢</u></p>




الطرح (علامته -)

	<p>من ٣ -</p> <p>خند ٣</p> <hr/>
	<p>من ٤ -</p> <p>خند ٣</p> <hr/>
	<p>من ٥ -</p> <p>خند ٣</p> <hr/>

## الطرح (علامته -)

	$\begin{array}{r} \text{من } 6 \\ - \quad 3 \\ \hline \end{array}$
	$\begin{array}{r} \text{من } 7 \\ - \quad 3 \\ \hline \end{array}$
	$\begin{array}{r} \text{من } 8 \\ - \quad 3 \\ \hline \end{array}$

## الطرح (علامته -)

	<p>من ٩ -  <u>٢</u> خذ</p>
	<p>من ١٠ -  <u>٣</u> خذ</p>
	<p>من ٤ -  <u>٤</u> خذ</p>



اطرح :

<p>من ٦ -  <u>٤</u> خذ</p>	<p>من ٩ -  <u>٣</u> خذ</p>
<p>من ٩ -  <u>٩</u> خذ</p>	<p>من ٨ -  <u>٤</u> خذ</p>
<p>من ٨ -  <u>٥</u> خذ</p>	<p>من ٧ -  <u>١</u> خذ</p>

اطرح :

من ٣ -  
خذ ١

من ٥ -  
خذ ٥

من ٦ -  
خذ ٢

من ٩ -  
خذ ٧

من ٧ -  
خذ ٢

من ٨ -  
خذ ٣

اطرح

$\begin{array}{r} - ۵۷ \\ ۴۱ \\ \hline \end{array}$	$\begin{array}{r} - ۲۲ \\ ۲۱ \\ \hline \end{array}$	$\begin{array}{r} - ۱۰ \\ ۱۱ \\ \hline \end{array}$
$\begin{array}{r} - ۶۰ \\ ۱۰ \\ \hline \end{array}$	$\begin{array}{r} - ۶۹ \\ ۳۳ \\ \hline \end{array}$	$\begin{array}{r} - ۸۳ \\ ۲۲ \\ \hline \end{array}$
$\begin{array}{r} - ۹۹ \\ ۸۵ \\ \hline \end{array}$	$\begin{array}{r} - ۹۷ \\ ۷۶ \\ \hline \end{array}$	$\begin{array}{r} - ۷۷ \\ ۲۳ \\ \hline \end{array}$

اقرأ واكتب :

٦٤	٦٣	٦٢	٦١
٦٨	٦٧	٦٦	٦٥
٧٢	٧١	٧٠	٦٩
٧٦	٧٥	٧٤	٧٣
آحاد عشرات	آحاد عشرات	آحاد عشرات	
٧٩	٧٨	٧٧	

اقرا و اكتب :

٨٠	٧٩	٧٨	٧٧	٧٦
٨٥	٨٤	٨٣	٨٢	٨١
٩٠	٨٩	٨٨	٨٧	٨٦
٩٥	٩٤	٩٣	٩٢	٩١
آحاد عشرات ٩٩	آحاد عشرات ٩٨	آحاد عشرات ٩٧	آحاد عشرات ٩٦	

٦٠

اقراء :

آحاد عشرت مئات

١٠٠

آحاد			عشرات			مئات		
٣	٥	٦	١	٢	٣	٣	٢	١
٢٨	١١	٥	١٠٠	٧٤	٦٩			
٥٠	٧٠	٩٠	٨٠	١٠	٦			
٨٣	١٩	٣٠	٢٠	٤٠	٦٠			
٤٤	٥٥	٦٦	٧٧	٨٨	١٥			
٥٨	٣٦	٦٣	٣٣	٢٢	٩٩			
٩٦	٧٨	٨٧	٧٥	٥٧	٨٥			
٥١	٤١	٣١	٢١	٩٤	٤٩			
١٧	٤	٩١	٨١	٧١	٦١			

## تمارين :

١٧ بيضة نبيل معه	٧ قروش إلهامى معه
٣٩ بيضة وآمال معها	٩ قروش ونوادى معه
بيضة مع الإثنين	قروش مع الإثنين

٧ سمكات سمير أكل	٣٨ مليا نادية معها
٥ سمكات ويوسف أكل	٥٧ مليا وعايدة معها
سمكة أكل الإثنين	مليا مع الإثنين

٥ كراسات محمود اشترى	١٣ كتابا سعيد باع
٢٨ كرسي وعلى اشترى	٦٨ كتابا ومحمد باع
كرسي اشترى الإثنين	كتابا باع الإثنين

## تمارين :-

<p>باعت آمال ٦ بطات</p> <p>وباعت عايدة ١٢ <u>بطة</u></p> <p>باع الاثنین <u>بطة</u></p>	<p>أخذ يوسف ٢١ <u>ليلا</u></p> <p>وأخذ الهامى ١٨ <u>ليلا</u></p> <p>أخذ الاثنین <u>ليلا</u></p>
<p>كتب نبيل ٤ كلمات</p> <p>وكتب سعيد ٨ <u>كلمات</u></p> <p>كتب الاثنین <u>كلمة</u></p>	<p>صام رفعت ٢٦ <u>يوما</u></p> <p>وصام سامى ٢١ <u>يوما</u></p> <p>صام الاثنین <u>يوما</u></p>
<p>وجد الهامى ٣ <u>عجالات</u></p> <p>ووجد نبيل ٨ <u>عجلة</u></p> <p>وجد الاثنین <u>عجلة</u></p>	<p>مع فؤاد ٥٨ <u>قرشا</u></p> <p>ومع محمد ٣٩ <u>قرشا</u></p> <p>مع الاثنین <u>قرشا</u></p>



## تمارين -

<p>صوف سمير ٤٩ مليا</p> <p>وبقي معه ٣٩ مليا</p> <hr/> <p>ما كان معه مليا</p>	<p>عمر أحمد ٧ سنوات</p> <p>وعمر فؤاد ٦ سنوات</p> <hr/> <p>عمر الإثنين سنة</p>
<p>أخذت سمير ٨ مليات</p> <p>وأخذت سامية ١٣ مليا</p> <hr/> <p>أخذ الإثنين مليا</p>	<p>علبة بها ٣٥ قلما</p> <p>وعلبة بها ٤٩ قلما</p> <hr/> <p>عدد الأقلام قلما</p>
<p>أزهار معها ١٩ قرشا</p> <p>ونبيلة معها ٢٨ قرشا</p> <hr/> <p>مع الإثنين قرشا</p>	<p>حمامة ثمنها ١٠ قروش</p> <p>ودجاجة ثمنها ٣٤ قرشا</p> <hr/> <p>ثمن الإثنين قرشا</p>

## تمارين :-

برتقالات ٤	أكل كمال	٩ مليات	نبيل معه
برتقالات ٣	وأكل نبيل	٧ مليات	والهامي معه
برتقالات ٦	ثم أكل فكري	١٠ مليات	وفواد معه
برتقاله	أكل الجميع	ملياً	مع الجميع
صفحة ٢١	رسمت سعاد	٨ مليات	سامية معها
صفحة ١٣	ورسمت نادية	١٢ ملياً	وأزهار معها
صفحة ١٩	ورسمت عايدة	١٥ ملياً	ونبيلة معها
صفحة	رسم الجميع	ملياً	مع الجميع

## تمارين :-

أحمد عنده ٦٠ بلية

وفتحى عنده ١٣ بلية

ونجيب عنده ٢٥ بلية

عند الجميع بلية

كتب يوسف ١٦ كلمة

وكتب رشدي ٢٨ كلمة

وكتب إبراهيم ٣٥ كلمة

كتب الجميع كلمة

حكمت معها ١٤ قرشا

وسميرة معها ٥١ قرشا

وفاطمة معها ١٨ قرشا

مع الجميع قرشا

صرف الهامى ١٩ مليا

وصرف محمد ٣٥ مليا

ثم صرف اساعيل ٢٤ مليا

صرف الجميع مليا

اجمع ..

$$= 0 \cdot + 17 + 2 \cdot$$

$$= 22 + 1 \cdot + 18$$

$$= 2 + 9 + 7$$

$$= 8 + 3 + 8$$

$$= 9 \cdot + 19 + 12$$

$$= 12 + 38 + 20$$

$$= 11 + 10 + 19$$

$$= 08 + 1 \cdot + 12$$

$$= 1 \cdot + 99 + 22$$

$$= 8 \cdot + 7 \cdot + 07$$

$$= 8 \cdot + 11 + 9$$

$$= 7 \cdot + 12 + 17$$

$$= 20 + 27 + 18$$

$$= 18 + 27 + 37$$

$$= 71 + 10 + 29$$

$$= 1 \cdot + 1 \cdot + 0$$

$$= 8 + 7 + 18$$

$$= 0 + 91 + 2 \cdot$$

$$= 1 + 0 + 37$$

$$= 1 \cdot + 1 \cdot + 21$$

اطرح :

$$= 15 - 37$$

$$= 14 - 06$$

$$= 13 - 19$$

$$= 12 - 88$$

$$= 17 - 77$$

$$= 15 - 29$$

$$= 10 - 70$$

$$= 23 - 87$$

$$= 21 - 40$$

$$= 43 - 83$$

$$= 34 - 64$$

$$= 10 - 78$$

$$= 33 - 97$$

$$= 70 - 81$$

$$= 15 - 77$$

$$= 30 - 40$$

$$= 55 - 79$$

$$= 30 - 01$$

$$25 - 78$$

$$= 90 - 99$$

## تمارين :

فؤاد معه ٨٣ مليا صرفت منها ١١ مليا الباقي معه مليا	نبيل معه ٦٩ مليا صرفت منها ١٥ مليا الباقي معه مليا
نادية معها ٤٧ مليا صرفت منها ١٦ مليا الباقي معها مليا	الهامي معه ٩٨ مليا صرفت منها ٢١ مليا الباقي معه مليا
آمال معها ٨٨ مليا صرفت منها ٣٠ مليا الباقي معها مليا	عايدة معها ٥٦ مليا صرفت منها ١٠ مليا الباقي معها مليا

## تمارين :-

<p>حمدي معه ٩٥ مليا</p> <p>صرف منها ١٤ مليا</p> <hr/> <p>الباقى معه مليا</p>	<p>يوسف عنده ٦٤ فدانا</p> <p>باع منها ١٣ فدانا</p> <hr/> <p>الباقى عنده فدانا</p>
<p>رسمية معها ٣٦ قلما</p> <p>أعطت أخيها ١٢ قلما</p> <hr/> <p>الباقى معها قلما</p>	<p>نادية معها ٨٧ مليا</p> <p>صرفت منها ٢١ مليا</p> <hr/> <p>الباقى معها مليا</p>
<p>علوي معه ١٨ مليا</p> <p>أعطى أخته ٦ مليا</p> <hr/> <p>الباقى معه مليا</p>	<p>رشدي معه ٢٩ بيضا</p> <p>أكل منها ٣ بيضا</p> <hr/> <p>الباقى معه بيضا</p>

## تمارين :

سعاد معها ٣٦ مليا صرفت منها ١٠ مليات الباقى معها مليا	فؤاد معه ٧٨ كتابا ضاع منه ٣١ كتابا الباقى معه كتابا
بدر الدين معه ٩٧ بلية أعطى صديقه ٢١ بلية الباقى معه بلية	إلهامى معه ٦٩ مليا أعطى أخته ٥٧ مليا الباقى معه مليا
فكرية عندها ٣٩ درجاجة زبحت منها ٤ درجاجة الباقى عندها درجاجة	نادية عندها ١٩ كرسيه أعطت أختها ١١ كرسيه الباقى عندها كرسيه



تمارين على الجمع والطرح :

نادية عمرها ٩ سنوات	
وقواد عمره ٤ سنوات أقل من نادية	
عمر قواد	سنوات

عايدة عمرها ٧ سنوات	
والهامي عمره ٤ سنوات أكثر من عايدة	
عمر الهامى	سنة

نبيل عمره ٦ سنوات	
وسمير يزيد عمره ٣ سنوات عن عمر نبيل	
عمر سمير	سنوات

تمارين على الجمع والطرح :

يوسف معه ٥٨ مليا  
 وإلهامى معه ١٩ مليا أكثر من يوسف  
 إلهامى معه مليا

باع سعيد حصانه بمبلغ ٥٧ جنيها  
 وسعيد اشتراه بمبلغ ٤١ جنيها  
 فكسب سعيد جنيها

اشترت نادية دراجة بمبلغ ١٢ جنيها  
 وباعتها بمبلغ ١٠ جنيها  
 فخسرت فيها جنيها

تمارين على الجمع والطرح :

قرشا	٤٦	آمال معها
قرشا أكثر مما معها	١٤	وأخوها معه
قرشا		مع أخيرها
مليما	٢٩	أخذت نوال
مليما أقل منها	٣	وأخذ رمزي
مليما		رمزي أخذ
سمكة	٣٧	اصطاد إسماعيل
سمكات أزيد منه	٨	واصطادت أخته
سمكة		اصطادت أخته

## اختبار ١.




٥٤ قرشا



٩٥ قرشا

<p>٢. اطرح :</p> $\begin{array}{r} 78 \\ - 69 \\ \hline \end{array}$ $\begin{array}{r} 51 \\ - 45 \\ \hline \end{array}$	<p>١. اجمع :</p> $\begin{array}{r} 14 \\ + 26 \\ \hline 40 \end{array}$ $\begin{array}{r} 19 \\ + 25 \\ \hline 44 \end{array}$	
<p>٣. كم ثمن الحذاء والقبعة ؟</p> <p>قرشا = +</p>		
<p>٤. ما الفرق بين ثمن الحذاء والقبعة ؟</p> <p>قرشا = -</p>		

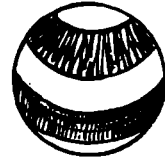
## اختبار ٢.



٣٦ مليا



٢٥ مليا



٣٠ مليا

١- كم مليا ثمن الكتاب والكرة ؟

+ = مليا

٢- كم مليا ثمن النغير والكتاب ؟

+ = مليا

٣- كم مليا ثمن الكرة والنغير والكتاب ؟

+ + = مليا

٤- ما الفرق بين ثمن الكتاب والنغير ؟

- = مليا

## اختبار ٢.



١٤ قرشا الأقة



١٢ قرشا الأقة



٣٩ قرشا الأقة



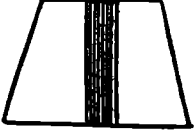
١- اشتري إلهامى أقة موز وأقة تفاح  
فكم قرشا دفعها؟  
قرشا = +

٢- ما الفرق بين ثمن أقة التفاح وأقة الموز؟  
قرشا = -




٣- كم يكون الفرق بين أقة العنب وأقة التفاح؟  
قرشا = -

٤- كم قرشا دفعتها نادية فى أقة موز  
وأقة تفاح وأقة عنب؟  
قرشا = + +

## اختبار ٤-

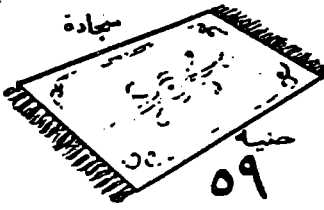


<p>قميص</p>  <p>قرشا ٢٨</p>	<p>ساعة</p>  <p>٤٦ قرشا</p>	<p>طربوش</p>  <p>٢٥ قرشا.</p>
<p>١- اشترى فؤاد طربوشا و قميصا فكم قرشا دفعها؟</p> <p>قرشا + =</p>		
<p>٢- كم يكون ثمن القميص والساعة؟</p> <p>قرشا + =</p>		
<p>٣- ما الفرق بين ثمن الساعة والطربوش؟</p> <p>قرشا = -</p>		
<p>٤- كم قرشا دفعها آمال في شراء الطربوش والساعة والقميص لأخيها نبيل؟</p> <p>قرشا + + =</p>		

## اختبار -٥-

محمرة	مسطرة	ريشة
		
١٠ مليمت	٣٧ مليما	١٢ مليما
١- اشترت عايدة مسطرة ومحمرة وريشة فكم مليما دفعتها ؟ مليما = + +		
٢- ما الفرق بين ثمن المسطرة و ثمن المحبرة ؟ مليما = -		
٣- نادية معها ٧٩ مليما اشترت منها ريشة ومسطرة كرمليما بقيت معها ؟ مليما = + مليما = -		



## اختبار ٦.

		
<p>١- اشترى سعيد كنبه وسجادة كم جنيها دفعها؟</p> <p>جنيها = +</p>	<p>١-</p>	
<p>٢- ما الفرق بين ثمن السجادة و ثمن الكنبه؟</p> <p>جنيها = -</p>	<p>٢-</p>	
<p>٣- ما ثمن الكرسي والسجادة والكنبة؟</p> <p>جنيها = + +</p>	<p>٣-</p>	
<p>٤- الهمامى معه ٩٧ جنيها اشترى منها كرسيًا وكنبة فكم جنيها بقيت معه؟</p> <p>جنيها = +</p> <p>جنيها = -</p>	<p>٤-</p>	

## اختبار - ٧ -



٤٩ قرشا



٥ قروش



١٢ قرشا



١- اشترى فؤاد إبريقا وكوبا وفجانا  
فكم قرشا دفعها؟  
قرشا = + +

٢- ما ثمن الكوب والإبريق؟  
قرشا = +

٣- ما ثمن فجانين وإبريق؟  
قرشا = +  
قرشا = +


٤- ما الفرق بين ثمن الإبريق والفجان؟  
قرشا = -

## اختبار ۸

 <p>سمك</p> <p>الاقعة ۱۰ قرش</p>	 <p>علبة زيت</p> <p>۹ قروش</p> <p>الاقعة</p>
-------------------------------------------------------------------------------------------------------------------	-------------------------------------------------------------------------------------------------------------------------------

<p>۱- اشترى سعيد اقة زيت و اقة سمك فكم قرشا دفعها ؟</p> <p style="text-align: center;">قرشا      =      +</p>	<p>۲- يوسف معه عشرون قرشا اشترى منها سما بعشرة قروش فكم قرشا بقيت معه ؟</p> <p style="text-align: center;">قرشا      =      -</p>				
<table style="width: 100%; border-collapse: collapse;"> <tr> <td style="border-right: 1px solid black; padding: 5px; text-align: right;">                 ۱۰ ۷۹   ۹ —             </td> <td style="border-right: 1px solid black; padding: 5px; text-align: right;">                 ۳۸ ۲۶   ۱۹ —             </td> <td style="border-right: 1px solid black; padding: 5px; text-align: right;">                 ۲۵   ۱۴   ۵۹ —             </td> <td style="padding: 5px; text-align: right;">                 اجمع ۱۶   ۲۹   ۴۸ —             </td> </tr> </table>	۱۰ ۷۹ ۹ —	۳۸ ۲۶ ۱۹ —	۲۵ ۱۴ ۵۹ —	اجمع ۱۶ ۲۹ ۴۸ —	<p>۳-</p>
۱۰ ۷۹ ۹ —	۳۸ ۲۶ ۱۹ —	۲۵ ۱۴ ۵۹ —	اجمع ۱۶ ۲۹ ۴۸ —		

## اختبار ۹



۱- نبیل جری ۷۸ مترا و ابراهیم جری ۶۳ مترا فکرم مترا جراها نبیل و ابراهیم؟  
 + = مترا

۲- کمر مترا جراها نبیل زیاده عن ابراهیم؟  
 - = مترا

۳- اطرح :

$$\begin{array}{r} ۹۳ \\ ۲۱ \\ \hline \end{array}$$

$$\begin{array}{r} ۷۴ \\ ۳۴ \\ \hline \end{array}$$

$$\begin{array}{r} ۸۵ \\ ۱۰ \\ \hline \end{array}$$

$$\begin{array}{r} ۶۹ \\ ۲۱ \\ \hline \end{array}$$

## اختبار ١٠



١- ذهبت عزيزة الى السوق واشترت جوربا وقميصا لأخيها فريد فكم قرشا دفعتها؟  
 قرشا = +

٢- ما الفرق بين ثمن القميص و ثمن الجورب؟  
 قرشا = -


٣- اجمع :

$$= ٤٥ + ١٠ + ٩$$

$$= ٤٤ + ١٨ + ٣٦$$

$$= ٢٠ + ٢٨ + ٢٢$$

## اختبار ١١

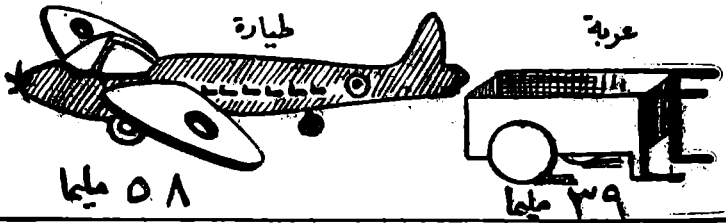


١- ذهب حلمي الى شجرة برتقال وأحضر  
 ١٥ برتقالة ثم ذهب نجيب وأحضر  
 ٢٩ برتقالة ثم ذهبت ثريا وأحضرت  
 ٨ برتقالات فكم برتقالة أحضرها كلهم؟  
 برتقالة = + +

٢- كم برتقالة أحضرها نجيب زيادة عن ثريا؟  
 برتقالة = -

٣- كم برتقالة أحضرها حلمي وثريا؟  
 برتقالة = +

## اختبار ١٢



١- اشترت نوال عربة و طيارة فكم مليا دفعتها؟  
 مليا = +

٢- رفعت معه ٧٩ مليا اشترى منها عربة فكر مليا بقيت معه؟  
 مليا = -

٣- اشترى اسما عيل طيارتين فكم مليا دفعتها؟  
 مليا = +

اجمع : ٤٨ + ٢٠ + ١١ =

٣١ + ١٣ + ٣٣ =

٩ + ٨٥ + ٦ =

## اختبار ١٣



١- كم مليما ثمن الزمارة والعروسة؟

$$\text{مليما} = +$$

٢- ما ثمن الكرة والعروسة؟

$$\text{مليما} = +$$

٣- ما الفرق بين ثمن العروسة و ثمن الزمارة؟

$$\text{مليما} = -$$

٤- أحمد معه ٩٩ مليما اشترى كرة وزمارة

فكم مليما بقيت معه؟

$$\text{مليما} = +$$

$$\text{مليما} = -$$



## اختبار ١٤




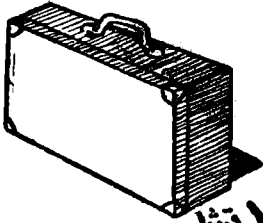
١- كم قرشا ثمن العقد والحذاء والمشط ؟  
 قرشا = + +

٢- ما الفرق بين ثمن الحذاء و ثمن العقد ؟  
 قرشا = -

٣- ما الفرق بين ثمن العقد و ثمن المشط ؟  
 قرشا = -

٤- ما الفرق بين ثمن الحذاء و ثمن المشط ؟  
 قرشا = -

اختبار ١٥

<p>علبة حلوى</p>  <p>٤٤ قرشا</p>	<p>شنطة</p>  <p>٧٨ قرشا</p>
-------------------------------------------------------------------------------------------------------------------	--------------------------------------------------------------------------------------------------------------

١- سعديّة معها ٦٩ قرشا اشترت منها  
 علبة حلوى وركبت الترام بمبلغ ٣ قروش  
 فكم قرشا بقيت معها ؟

قرشا	=	+
قرشا	=	-

٢- اطرح :

=	٢١ - ٦٧
=	١٠ - ٨٥

٣- كم قرشا ثمن الشنطة وعلبة الحلوى  
 وما الفرق بين الثمنين ؟

قرشا	=	+
قرشا	=	-



رابطہ بتدیل  
lisanerab.com



أ. علاء الدين شوقي

www.lisanarb.com



twitter مكتبة لسان العرب



facebook مكتبة لسان العرب



instagram مكتبة لسان العرب

